




- 1 Escribe de quin temps són aquestes imatges i numera-les de la més antiga a la més moderna:









- 2 Llegeix aquesta notícia i contesta:

A la serra del Montsant s'han trobat més de 300 pintures que representen animals, figures humanes i elements abstractes.

Aquestes pintures es diuen **pintures rupestres** perquè es pintaven a les roques. Potser aquells homes antics es pensaven que si pintaven animals la caça seria més bona.

- De quina època deuen ser les pintures?

.....

- Com s'anomenen aquestes pintures?

.....

- Per què les pintaven?

.....

- Per què era important tenir bona caça?

.....